

LBRIS

We know
books

Marius-Cristian NEACȘU
Veronica REH

Colecția

MĂ ANTRENEZ. EVOLUEZ

Geografie

4



**Caiet de
activități**

Nume:

Prenume:

Clasa:

Școala:



EDITURA CD PRESS
www.cdpress.ro

UNITATEA 1. ORIZONTUL APROPIAT ȘI LOCAL. ELEMENTE DE GEOGRAFIE

Fișă de lucru		Lecția 1. Clasa, școala, cartierul, localitatea4
Fișă de lucru		Lecția 2. Orientarea și distanțele în orizontul apropiat6
Fișă de lucru		Lecția 3. Planul clasei, al locuinței, școlii, cartierului, localității7
Fișă de lucru		Lecția 4. Orizontul, linia orizontului, punctele cardinale10
Fișă de lucru		Lecția 5. Hărți ale orizontului local11
Fișă de lucru		Lecția 6. Relief, climă, hidrografie, vegetație, faună, soluri12
Fișă de lucru		Lecția 7. Populație, așezări, activități ale oamenilor14
Fișă de lucru		Lecția 8. Modificări observabile în realitatea înconjurătoare15
Fișă de lucru		Lecția 9. Ora, ziua, săptămâna, anul16
Fișă de lucru		Lecția 10. Calendarul18
Fișă de lucru		Lecția 11. Localitatea natală20
Fișă de lucru		Lecția 12. Regiunea înconjurătoare22
Fișă de lucru		Lecția 13. De la orizontul local la regiune și țară23
Fișă de lucru		Recapitulare.....	24
Fișă de lucru		(Auto)Evaluare	26

UNITATEA 2. ROMÂNIA. ELEMENTE DE GEOGRAFIE GENERALĂ

Fișă de lucru		Lecția 1. Limitele și vecinii României28
Fișă de lucru		Lecția 2. Relieful României – caracteristici generale29
Fișă de lucru		Lecția 3. Principalele trepte de relief ale României30
Fișă de lucru		Lecția 4. Clima României31
Fișă de lucru		Lecția 5. Apele României32
Fișă de lucru		Lecția 6. Dunărea și Marea Neagră33
Fișă de lucru		Lecția 7. Vegetația, fauna și solurile României34
Fișă de lucru		Lecția 8. Populația României35
Fișă de lucru		Lecția 9. Așezările României36

Fișă de lucru		Lecția 10. Resursele și activitățile industriale37
Fișă de lucru		Lecția 11. Agricultura și principalele produse agricole38
Fișă de lucru		Lecția 12. Căile de comunicație39
Fișă de lucru		Recapitulare.....	40
Fișă de lucru		(Auto)Evaluare	42

UNITATEA 3. ROMÂNIA. ELEMENTE DE GEOGRAFIE REGIONALĂ

Fișă de lucru		Lecția 1. Munții Carpați44
Fișă de lucru		Lecția 2. Dealurile și podișurile45
Fișă de lucru		Lecția 3. Câmpiile46
Fișă de lucru		Lecția 4. Delta Dunării47
Fișă de lucru		Proiect. Elemente de caracterizare geografică a unei regiuni48
Fișă de lucru		Lecția 5. Organizarea administrativă actuală49
Fișă de lucru		Lecția 6. Orașul București – caracterizare geografică50
Fișă de lucru		Recapitulare.....	51
Fișă de lucru		(Auto)Evaluare	52

UNITATEA 4. ROMÂNIA ÎN EUROPA ȘI PE GLOB

Fișă de lucru		Lecția 1. Poziția geografică a României în Europa54
Fișă de lucru		Lecția 2. Țările vecine55
Fișă de lucru		Lecția 3. Europa – scurtă caracterizare geografică57
Fișă de lucru		Lecția 4. Europa și România – elemente comune58
Fișă de lucru		Lecția 5. Uniunea Europeană60
Fișă de lucru		Lecția 6. Caracteristici generale ale Terrei61
Fișă de lucru		Lecția 7. Continente și oceane62
Fișă de lucru		Lecția 8. Terra – o planetă a Sistemului Solar63
Fișă de lucru		Atlas. Planiglobul – imaginea Terrei64
Fișă de lucru		Recapitulare.....	65
Fișă de lucru		(Auto)Evaluare	66

✓ Activitate practică

Construiește din carton clădiri asemănătoare celor din cartierul în care locuiești. Folosește cutii de carton, după modelul alăturat.



✓ Exerciții

1. Enumeră obiectele din clasa ta.

2. Enumeră obiectivele importante din cartierul tău.



✓ Activități practice

1. Măsoară distanța de la banca ta la tablă, numărând pașii, apoi folosește un instrument de măsură. Ce instrumente ai la îndemână? Notează rezultatele.



2. Măsoară distanțele indicate în tabel, folosind ca unitate de măsură metrul. Notează distanțele măsurate și compară rezultatele cu cele ale colegilor.


Repere	Distanța în metri (100 cm = 1 m)
bancă – tablă	
catedră – tablă	

✓ Joc

Descoperă distanțele!

Calculează și scrie pe caiet distanțele care trebuie parcurse între următoarele obiective:

Școală	Parc m
Școală	Magazin m
Parc	Magazin m



Lecția 3. Planul clasei, al locuinței, școlii, cartierului, localității



✓ Activitate practică

A. Să construim planul clasei!

CE VOM REALIZA?

Planul clasei

DE CE ÎL VOM REALIZA?

- pentru a învăța să reprezentăm corect un spațiu;
- pentru a înțelege mai bine cum este organizat acel spațiu;
- pentru a ne orienta mai ușor în acel spațiu.

CUM VOM LUCRA?

- în echipe

ETAPE ÎN REALIZAREA UNUI PLAN

Folosim o foaie dintr-un caiet de matematică: **2 căsuțe = 1 cm.**

1. Delimităm suprafața clasei:
 - măsurăm cu atenție dimensiunile clasei (*lungime, lățime*);
 - le micșorăm la scară (**1 cm în caiet = 1 m în realitate**). De câte ori am micșorat dimensiunile reale?

În caietul de matematică	În realitate

2. Stabilim poziția obiectelor în raport cu anumite repere din clasă.
3. Măsurăm dimensiunile (*lungimea, lățimea*) obiectelor pe care dorim să le reprezentăm și distanța dintre acestea.
4. Micșorăm dimensiunile reale la scară (**1 cm în caiet = 1 m în realitate**).
5. Desenăm forma fiecărui obiect, redus la scară, sub forma unui simbol.
6. Realizăm legenda, adăugăm titlul și scara.

B. Realizează, în același mod, planul camerei tale.

lată un model:

PLANUL CLASEI

Legendă

- _____
- _____
- _____

REDUCERE LA SCARĂ

Orice plan sau hartă are: titlu, scară, legendă.

Scara 1 : 1

Scara 1 : 2

Scara 1 : 4


Cum o fi cu...
reducerea la scară?
A, ce aiurit sunt,
uite explicația
alături!



A. Să construim planul clasei!

LEBRIS

We know
books



B. Realizează, în același mod, planul camerei tale.

LIBRIS

We know
books




Orizontul, linia orizontului, punctele cardinale

✓ Activități practice

1. Realizează un desen cu titlul **La munte.**

Trasează linia orizontului și indică punctele cardinale pe marginile desenului.




Ce este orizontul?
 Descrie cum arată
 linia orizontului la
 munte spre deosebire
 de mare?



2. Realizează un desen cu titlul **La mare.**

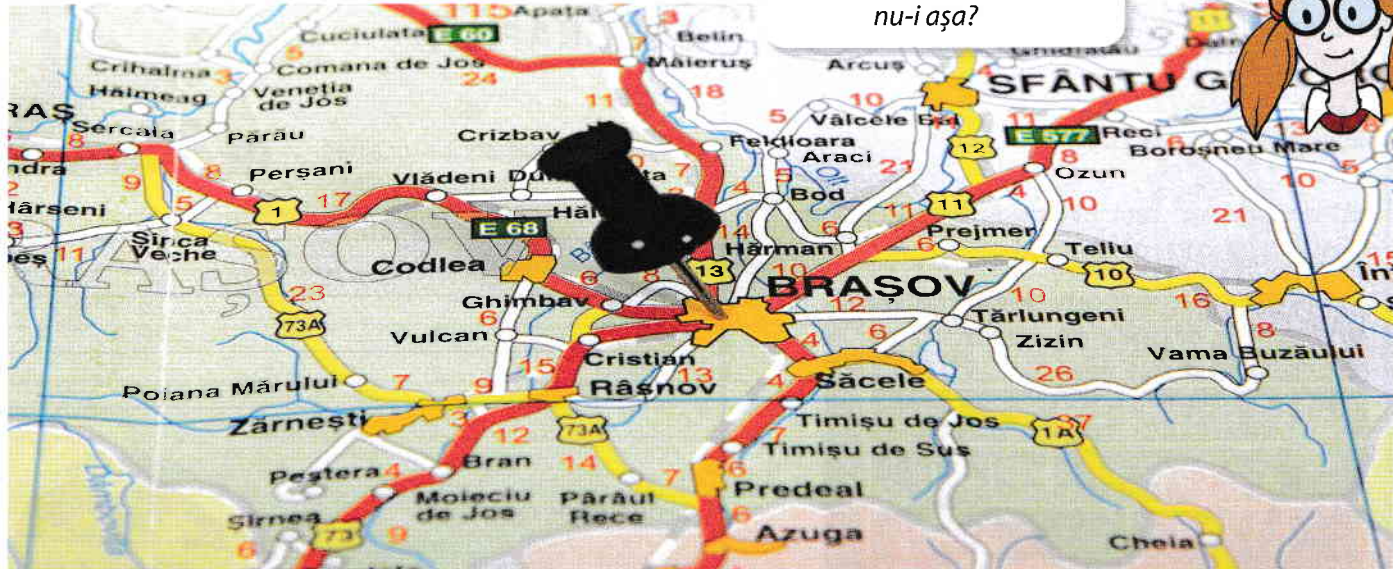
Trasează linia orizontului. Pe marginile tabloului tău indică și punctele cardinale.




Lecția 5. Hărți ale orizontului local

Activități practice

1. Observă harta de mai jos!










Harta este o reprezentare aproximativă, micșorată și simbolică a unui teritoriu, nu-i așa?



Găsește un titlu potrivit hărții _____ și realizează o legendă a acesteia, completând spațiile goale de mai jos.

LEGENDĂ

	Codlea		_____
	Teliu		_____
	Județ		_____
			_____

Notează denumirea localității principale indicate.

Notează cinci localități importante din jurul localității principale.

2. Realizează o hartă a orizontului local și, poate, aceasta îți va arăta drumul spre o... comoară! Ca să o găsești ușor, harta trebuie să fie completă!

